



Julekalender 1.-4. trinn



Løysingsord: _____




Kor mange bein gøymer seg bak julegåva?



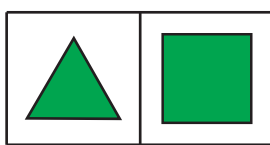
6	8	10
R	S	T



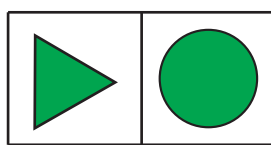
Karin skal klippe ut ein bit av biletet nedanfor.




Kva for ein av bitane nedanfor kan ho klippe ut?



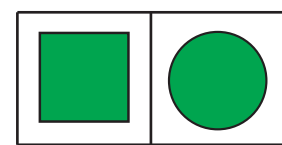
B



R



O



L



I ei skuff har julenissen 10 raude og 10 kvite sokkar.
Han tek opp sokkar frå skuffa utan å sjå på dei.

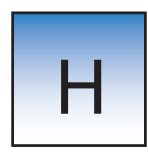

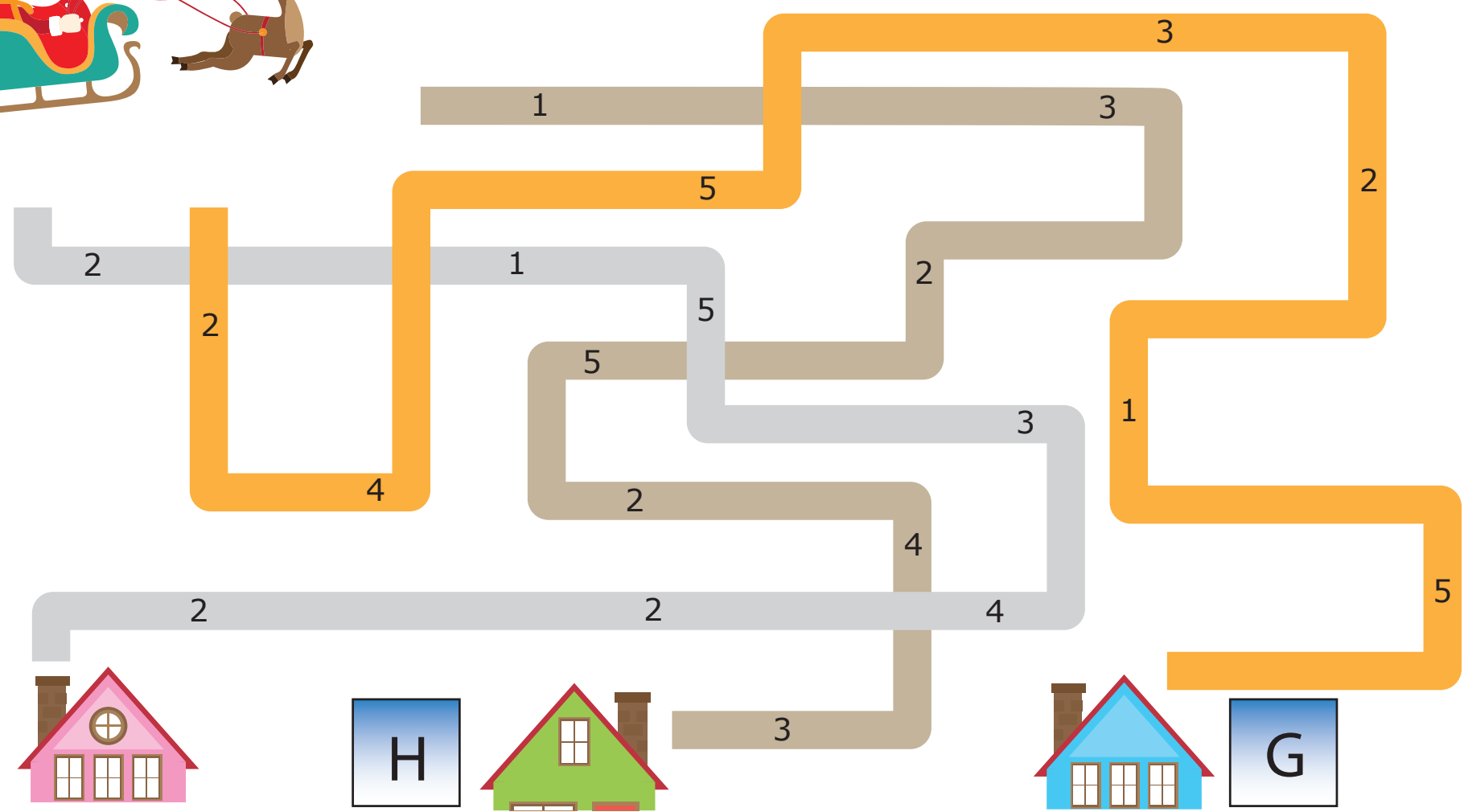
Kor mange sokkar må julenissen ta opp for å vere sikker på at han får to sokkar i same farge?

2	3	11	19
V	I	M	J



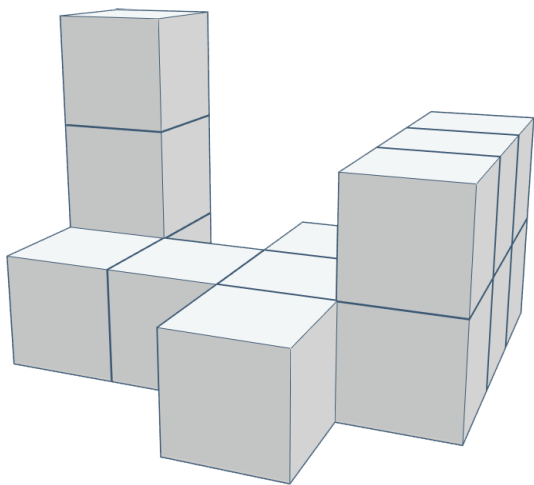
Julenissen må også betale bompengar.
 Legg saman tala langs vegane.

Kva for eit hus kostar det mest å levere pakkar til?





Nisseguten har bygd eit byggverk.



Kor mange klossar har nisseguten brukt?

13	14	16
M	K	O





Julenissen skal skrive tala frå 1 til 100.
Kor mange gongar må han skrive eit 9-tal?

9	19	20
P	A	N

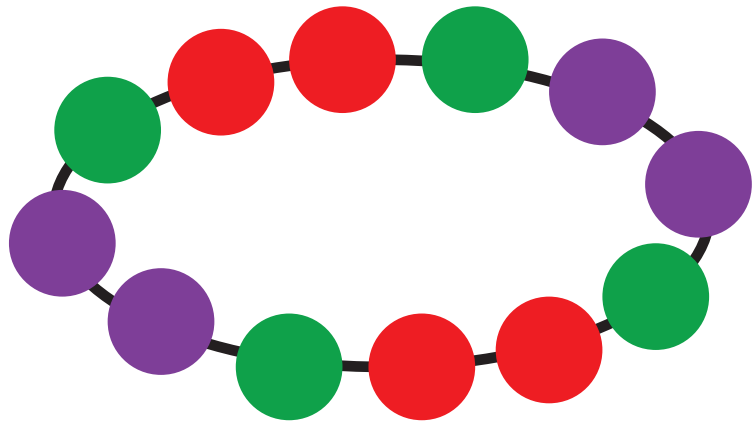


Nissane køyrer racerløp.

Nissen i bil nummer 20 passerer nissen som ligg på 2.plass.

Kva for ein plass har nissen i bil nummer 20 no?

1. plass	2. plass	3. plass
R	I	F




Smånissane har laga eit armband.


Kva for eit bilete nedanfor viser ein del av armbandet?




F



E




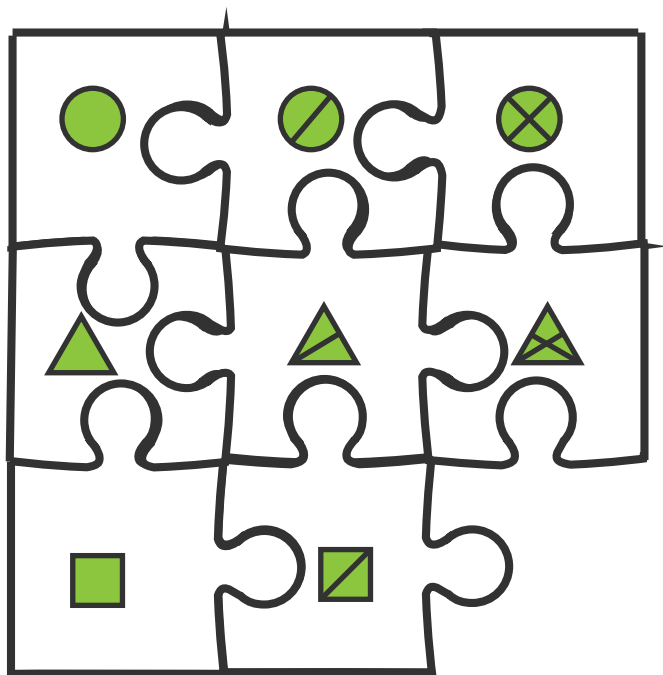
D









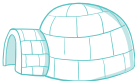

S







Kva for ei brikke manglar?




















Rudolf har gøymt seg.
Hjelp julenissen med å finne
gøymestaden til Rudolf.

-  Gå fram  Drei til høyre
-  Gå tilbake  Drei til venstre

Start der julenissen står. Følg pilane.

-     
-     
-     

Første bokstav i gøymestaden
er løysingsbokstaven.

-  gravemaskin
-  kyrkje
-  julegåve
-  igloo
-  telt
-  låve
-  juletre



11



Rudolf tenkjer på eit tal.

Det er eit tresifra tal.

Talet er mindre enn 400.

Sifferet på hundrarlassen er dobbelt så stort som sifferet på einarplassen.

Sifferet på tiarplassen er to større enn sifferet på einarplassen.

Kva tal tenkjer Rudolf på?

231	442	142
E	U	R

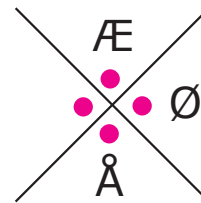





Mikkel Rev har laga eit kodesystem.

A	B	C
D	E	F
G	H	I

J	K	L
M	N	O
P	R	S



Kvart symbol står for ein bokstav eller eit mellomrom.
Kva har Mikkel Rev skrive her?

