




2024




Badeball 3.-5. trinn



Løsningsord: _____



Oppgave 1



Oliver har fire brikker:



Han vil lage et kvadrat:




Hvilke to brikker kan Oliver sette sammen til et kvadrat?

1 og 2	1 og 3	1 og 4	2 og 3	2 og 4
A	S	T	L	R




Oppgave 2




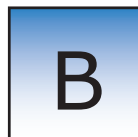

I en park er det 5 trær.

Når Jonas ser seg omkring,
kan han bare se to av trærne.

Resten er skjult bak andre trær.




Hvem er Jonas?






Oppgave 3



Olivia har fem klistremerker:



Hun limte de inn i rutene:

1	2	3	4	5
----------	----------	----------	----------	----------

Stjerna er ikke i rute 5.

Hjertet er i rute 1.


Blomsten er limt ved siden av smultringen og jordbæret.

I hvilken rute har Olivia limt blomsten?

1	2	3	4	5
K	U	N	R	Ø



Oppgave 4



Kan du dele figurene nedenfor i to trekanter?



Du får bare lov til å tegne én linje.



Hvilken figur kan du ikke dele i to trekanter med én rett linje?



F



J



S




D



M




Oppgave 5



Emil har festet noen lekefisker på et tau.

Fiskene er festet slik at noen svømmer mot ringen og andre svømmer fra ringen.




Hvor mange fisker svømmer mot ringen når han strekker ut snora?

3	5	6	8	10
P	E	I	H	K




Oppgave 6




Tallet 301 er et tresifret tall.
Tverrsummen til tallet er 4, fordi $3 + 0 + 1 = 4$.

Tallet 220 er også et tresifret tall med tverrsum 4,
fordi $2 + 2 + 0 = 4$.




Hvor mange tresifrede tall med tverrsum 4 finnes det?

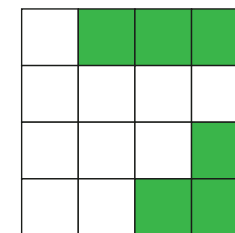
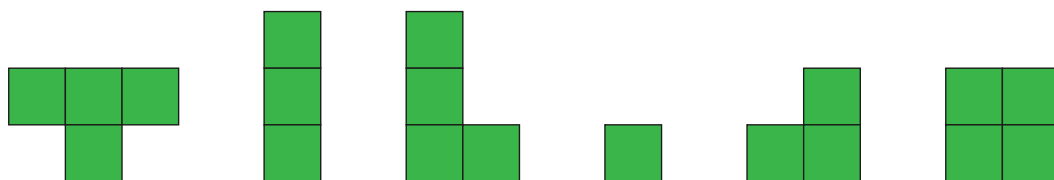
10	9	8	7	6
V	G	R	O	A



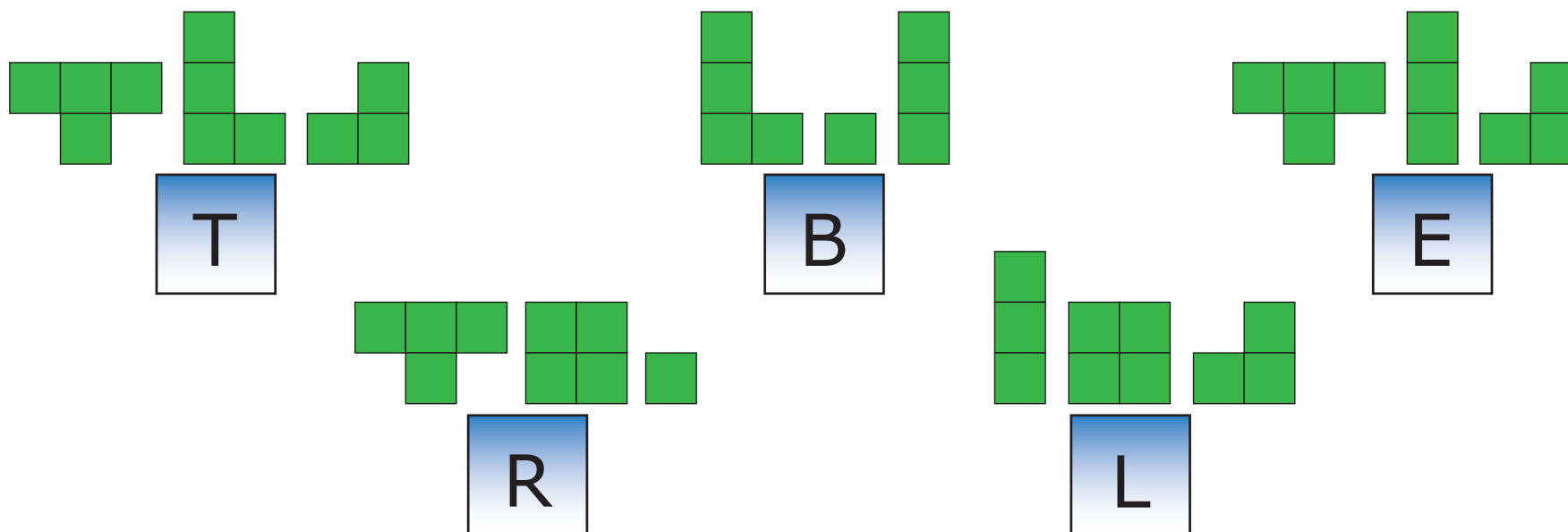
Oppgave 7



Du har seks brikker å velge mellom for å pusle ferdig kvadratet.




Hvilke tre brikker må du bruke for å pusle ferdig kvadratet?





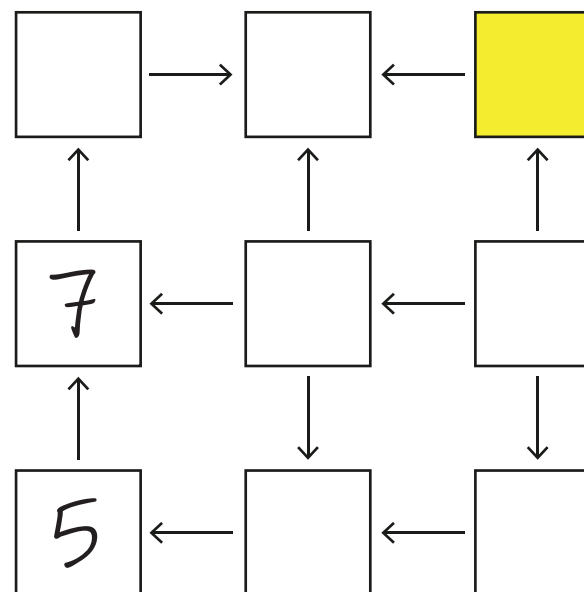
Oppgave 8



Theodor skal skrive tallene fra 1 til og med 9 i rutene. Ett tall i hver rute.

Alle piler skal peke fra et mindre tall til et større tall.

Han har allerede skrevet inn tallene 5 og 7.



Hvilket tall må Theodor skrive i den gule ruta?

2	3	4	6	8
S	K	R	L	Y