


Tre sett med oppgaver for mattebingo, småskolen

Sett 1

Spørsmål	Svar
1. Hvor mange hjørner har et kvadrat?	4
2. Hvor mange 50-ører får du for 10 kroner?	20
3. Hva er halvparten av 4?	2
4. Hva er det dobbelte av 6?	12
5. En vaffelplate har 4 hjerter. Hvor mange hjerter har to vaffelplater?	8
6. To epler koster 10 kroner. Hvor mye koster ett eple?	5
7. Hvor mye er klokka to timer etter klokka 7?	9
8. Kari har en bror og en søster. Hvor mange barn er det i familien?	3
9. Hønene til Hansen har 20 bein til sammen. Hvor mange høner har han?	10
10. Hvor mye er klokka en time før klokke 12?	11
11. Kari hadde 28 kroner. Hun kjøpte smågodt for 10 kroner. Hvor mye penger hadde hun igjen?	18
12. Petter tjente 10 kr på å klippe plenen og 15 kr på å vaske opp. Hvor mye tjente han til sammen?	25
13. Hvor mange flater har en terning?	6
14. Du kaster hus i yatzy med tre 2-ere og to 5-ere. Hvor mange poeng er det?	16
15. Du får tre like i Yatzy med 5-ere. Hvor mange poeng er det?	15
16. Ola er 7 år. Broren er 7 år eldre. Hvor gammel er broren?	14
17. Ellen har en 10-kroning og en 20-kroning. Hvor mye er det til sammen?	30
18. Hvor mange dager er det i tre uker?	21




- 
19. Astrid kastet pilspill. Den første traff 10, den andre traff 9 og den tredje traff 10. Hvor mange poeng fikk Astrid? **29**
20. Hvor mange dager er det i februar når det ikke er skuddår? **28**
21. Hvilket tall brukes for å si at klokka er fem om ettermiddagen? **17**
22. Hvor mange boller får du til overs hvis 3 barn skal dele 10 boller og få like mange hver? **1**
23. I en familie er det to foreldre tre barn, en hund og en katt. Hvor mange familiemedlemmer er det til sammen? **7**
24. En pose med drops koster 7 kr. Petter betaler med en 20-krone. Hvor mye får han igjen? **13**
25. På et fotballag er det 11 spillere. Hvor mange spillere er det på banen når to lag spiller mot hverandre? **22**



Sett 2

Spørsmål	Svar
1. Hva er det dobbelte av 2?	4
2. Jeg hadde avtalt å møte mamman min her for 10 minutter siden, men hun ringte nettopp og fortalte at hun ikke rakk å møte meg før om 10 minutter. Hvor mange minutter for sein ble mamma?	20
3. Om jeg sier at du gjerne kan få et par kakestykker. Hvor mange kakestykker kan du forsyne deg med da?	2
4. Hvilket partall ligger mellom 10 og 14?	12
5. Hva er $2+2+2+2$?	8
6. Jeg har en tvillingsøster og en bror. I tillegg har jeg mor og far. Hvor mange er det i familien min?	5
7. Nå er klokka 11. Hva var den for 2 timer siden?	9
8. Tre kompiser pantet flasker og fikk 9 kroner i pant. De ble enige om å dele pengene likt. Hvor mange kroner fikk hver av dem?	3
9. Hvilket tall er større enn 9 men mindre enn 11?	10
10. Av de to tallene 11 og 14, hvilket er oddetall?	11
11. Jeg fant 2 kroner i sanda på stranda i sommer og hadde så lyst på en is som kostet 20 kroner. Hvor mange kroner manglet jeg for å kunne kjøpe isen?	18
12. Jeg hadde tre piler og skulle kaste på blink. Først fikk jeg 10 poeng, så fikk jeg 5 og til slutt fikk jeg 10 poeng igjen. Hvor mange poeng fikk jeg tilsammen?	25
13. Rundt et bord satt det 11 personer, så gikk fem av dem. Hvor mange satt igjen ved bordet?	6
14. I lomma mi har jeg et kronestykke, en femmer og en tier. Hvor mye blir det tilsammen?	16
15. Hvilket tall brukes for å si at klokka er tre om ettermiddagen?	15
16. Jeg har en eldre bror. Han er 6 år eldre enn meg. Hvor gammel var broren min den gangen jeg var 8 år?	14




- 
17. Jeg fikk en 50-lapp til bursdagen min for å kjøpe noe jeg ønsket meg. Jeg fant et tegneserieblad til 20 kroner. Hvor mye har jeg igjen av bursdagspengene mine nå? **30**
18. For lenge siden, i Romerriket skrev og leste de tall på en annen måte enn det vi gjør. I stedet for 10 skrev de en stor x, og i stedet for 1 skrev de en stor i. XI er 11, men hva tror du XXI blir? **21**
19. Hva er det siste (hele) tallet før 30? **29**
20. Jeg samler på pokemonfigurer. Jeg hadde 18 figurer før jeg fikk 10 av kusina mi. Hvor mange er det i samlingen min nå? **28**
21. Hvilket tall er dette? Tallet er mindre enn 20, men større enn 15. Legger du til 3 får du 20. **17**
22. Antall armer pluss antall bein er tilsammen 4. Hvor mange personer er det? **1**
23. Når du bowler er det om å gjøre å få ned 10 kjegler. Du får to forsøk. Jeg er ikke så flink, så i første forsøk fikk jeg veltet 2 kjegler og i andre forsøk fikk jeg ned bare 1. Hvor mange kjegler sto det igjen? **7**
24. Hvilket tall er det neste i rekka? Rekka er slik 3, 5, 7, 9, 11. Svar: **13**
25. Hvor mange femtiører får du dersom du veksler inn 11 kroner? **22**



Sett 3

Spørsmål	Svar
1. Hvor mange årstider har vi?	4
2. I bursdagen min kom det 10 gutter og 9 jenter. Hvor mange ble vi tilsammen?	20
3. Hvor mange uker er 14 dager?	2
4. Hvor mange måneder er det i ett år?	12
5. Hva er det dobbelte av 4?	8
6. Omjegsier at "hmm" + 2 blir 7. Hva må "hmm" være?	5
7. Hva er halvparten av 18?	9
8. Hvilket tall mangler? 5, 4, 2, 1, 0.	3
9. På et basketball-lag er det fem spillere. Hvor mange spillere er det på banen når to lag møtes i en kamp?	10
10. Hvilket tall er 4 mindre enn 15?	11
11. Jeg kjøpte 4 tyggis til 50 øre stykket, hvor mye fikk jeg igjen da jeg betalte med en 20-kroning?	18
12. To donaldpocket kostet 50 kroner, hvor mye kostet det for én?	25
13. Hva er klokka to timer etter 4?	6
14. Hvis du har 10 seigmenn, spiser opp 4 og får 10 nye. Hvor mange har du da?	16
15. Hvilket tall er like langt fra 20 som fra 10?	15
16. Hva blir $2+3+4+5$?	14
17. Jeg bruker å ha småpenger i bukselommene mine, og her om dagen da jeg skulle vaske bukser fant jeg en femmer i den ene boksa, en femmer og en tier i den andre og i den tredje bukse lå det en tier. Hvor mye hadde jeg i lommene mine?	30
18. I 7'er fotball er det 7 personer som spiller om gangen. Hvor mange spillere er det i 3 7'er lag?	21



- 
19. Sønnen min får 7 kr hver gang han går ut med søpla og 15 kroner dersom han støvsuger hele stua. Denne uka gikk han ut med søpla to ganger og støvsuget én gang. Hvor mye lommepenger fikk han? **29**
20. I sommer var vi først 14 dager i syden, så var vi hjemme i 4 dager og til slutt var vi på hytta på fjellet i 10 dager. Hvor mange dager ferie hadde jeg i sommer? **28**
21. Hvilket tall mangler? 15, 16, 18, 19, 20. **17**
22. Hva er klokka én time før 2? **1**
23. Om jeg tegner et rektangel og en trekant ved siden av hverandre. Hvor mange hjører har figurene tilsammen? **7**
24. I desember er Luciadagen dag nummer? **13**
25. Hvis du teller til 11 to ganger, hvor mye blir det tilsammen? **22**

